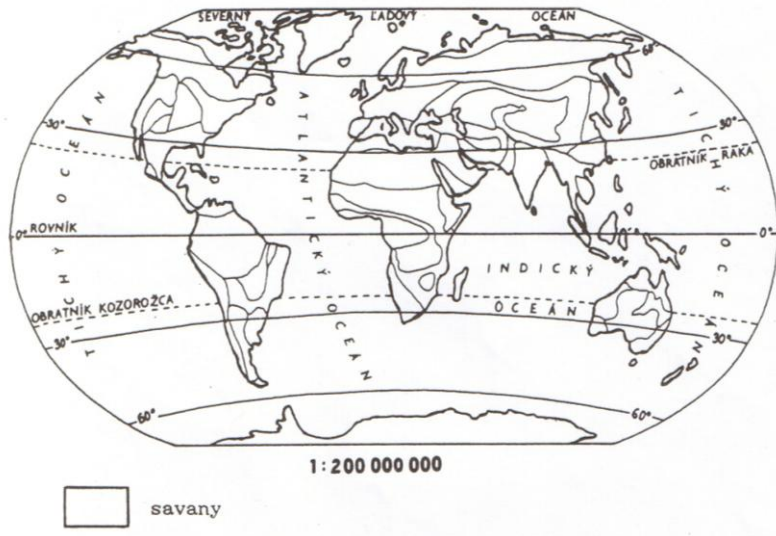


Savany


Trávnaté krajiny s roztrúsenými stromami, obkolesujúce dažďové pralesy sa nazývajú

Do mapky vyznač savany /atlas sveta str.13/.




Savany sa rozprestierajú v podnebnom pásme, kde sa strieda obdobie dažďa s obdobím sucha a preto toto podnebné pásmo voláme

Do nasledujúceho obrázku dopíš obdobie savany:



K číslam pod obrázkami napíš názvy živočíchov saván:



- | | |
|--------|--------|
| 1..... | 5..... |
| 2..... | 6..... |
| 3..... | 7..... |
| 4..... | 8..... |

Doplň iné druhy živočíchov žijúcich na savanách:

.....

.....

.....

Rozsiahle plochy saván ľudia rozorali a premenili na,
 na ktorých sa pestujú **kultúrne plodiny**. K číslam pod obrázkami napíš názvy
 týchto plodín:



1
 2

3



.....



.....

Moria v tropických oblastiach sú bohaté na rôzne druhy morských živočí-
 chov. Tri z nich sú ukryté v nasledujúcich písmenkových šifrách. Rozlúšti ich!



.....